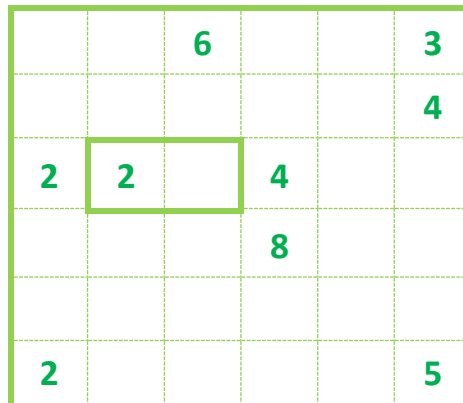




## Pracovní list číslo 11.

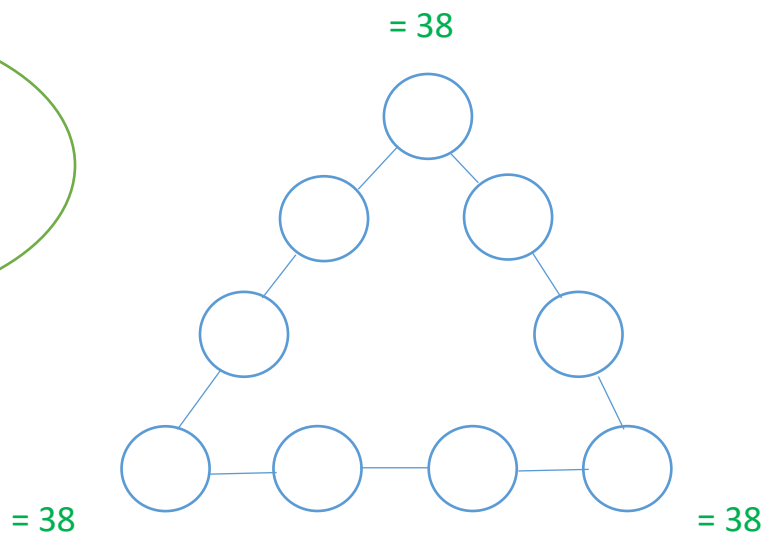
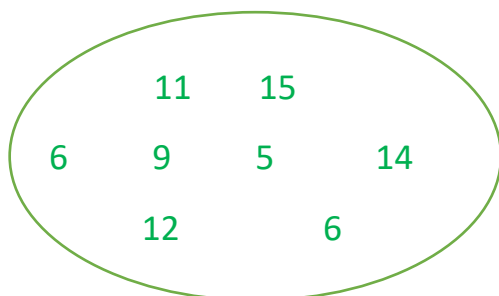
### Sikaku\*

Rozděl hrací pole tak, aby vznikly obdélníky a čtverce. Zelená čísla udávají, z kolika čtverečků se bude čtvercové nebo obdélníkové pole skládat.



### Sčítání v pyramidě\*\*

Dokážeš dosadit čísla v oválu do prázdných koleček tak, aby se v každá ze tří došlo k součtu 38?



### Řady čísel\*

Chápeš, podle jaké logiky jsou řazena čísla v řádku? Které je další

- A. 

6	12	18	24	30	36	?
---	----	----	----	----	----	---
- B. 

5	8	11	14	17	?
---	---	----	----	----	---
- C. 

3	6	5	8	7	10	9	12	?
---	---	---	---	---	----	---	----	---

### Hanjie\*\*\*

Číslíčky na okrajích hracího pole udávají počet a délku čtverečků, které smíš vymalovat černě. Číslíčky 5 – 5 znamenají, že v daném řádku jsou dvě černé plochy, které se táhnou přes 5 čtverečků; zbytek zůstává bílý. Nakonec se ti ukáže obrázek.

					5	4		3	3	4	5				
			5	5	4	6	3	2	2	6	4	5	5		
		7	11	7	6	3	3	10	5	7	3	3	6	7	11
7															
11															
13															
3	3	3													
4	5	4													
7	7														
7	7														
3	2	3	3												
2	7	2													
4	5	4													
5	5														
5	5														
13															
11															
7															

Přezdívká	Jméno	Příjmení	Věk (např. 10 let)	Kontakt
Obtížnost	Název	Řešení hádanky		Počet bodů
Lehká *	Sikaku	Doplnit do tabulky		
Střední **	Sčítání v pyramidě	Doplnit do tabulky		
Lehká *	Řady čísel	A/....., B/....., C/.....		
Těžká***	Hanjie	Doplnit do tabulky		